

1. LÍNGUA PORTUGUESA

Senado aprova projeto de lei que transforma prática de 'stalking', física ou virtual, em crime

Renato Machado

Folha de S.Paulo, 09 de março de 2020

BRASÍLIA – O Senado aprovou nesta terça-feira (9) projeto de lei que criminaliza o “stalking”, ou seja, a perseguição, seja fisicamente ou online, com pena de seis meses a dois anos de reclusão, além de multa.

O projeto foi aprovado pelos senadores, com 71 votos a favor e nenhum contrário.

A proposta, de autoria da senadora Leila Barros (PSB-DF), já havia sido aprovada pelos senadores em caráter terminativo na CCJ (Comissão de Constituição e Justiça) em agosto de 2019. **No entanto**, o texto foi alterado pela Câmara dos Deputados, por isso retornou ao Senado. Agora, segue para a sanção do presidente Jair Bolsonaro (sem partido).

A proposta altera o Código Penal, tipificando o crime de stalking. A pena de seis meses a dois anos estava no projeto inicial, mas havia sido aumentada na Câmara dos Deputados para de um a quatro anos. Senadores apontaram que a pena maior poderia criar uma discrepância com outros crimes previstos no Código Penal.

De acordo com o texto aprovado pelos senadores, torna-se crime "perseguir alguém, reiteradamente e por qualquer meio, ameaçando-lhe a integridade física ou psicológica, restringindo-lhe a capacidade de locomoção ou, de qualquer forma, invadindo ou perturbando sua esfera de liberdade ou privacidade".

O texto original também descrevia o crime como "perseguição abusiva", **mas** o termo "abusiva" foi retirado durante a tramitação.

A pena ainda pode ser aumentada em 50% se envolver crimes contra crianças, adolescentes, idosos e mulheres por razões da condição do sexo feminino e se houver a participação de duas ou mais pessoas ou o uso de armas.

O relator da matéria, o senador Rodrigo Cunha (PSDB-AL), justificou a importância do projeto apontando que o Brasil é o 5º país do mundo com mais casos de feminicídio, Cunha também afirmou que pesquisas mostram que 76% desses casos foram precedidos por casos de perseguição da parte de seus então parceiros.

"Este projeto é de extrema importância, **porque** define, de fato, o que é o crime de perseguição, que é, justamente, aquela perseguição praticada seja pelo meio físico, seja pelo meio virtual e que interfere na liberdade ou na privacidade da vítima. Não havia essa previsão, e vamos passar a tê-la", afirmou o relator.

"Vale destacar, ainda, que o projeto é de extrema importância à tutela da integridade feminina e ao combate à perseguição sofrida por mulheres, especialmente no âmbito da violência doméstica e familiar. A repressão ao stalking praticado com violência de gênero é essencial, diante da grande probabilidade de as condutas perpetradas pelo agente perseguidor tornarem-se, posteriormente, paulatina ou subitamente mais graves, evoluindo para agressões severas e, **até mesmo**, para o feminicídio", completou.

Os senadores reservaram a sessão desta segunda-feira para analisar propostas que visam garantir mais segurança às mulheres, além de aumentar sua representatividade na sociedade. A escolha da data foi por ser a primeira sessão deliberativa após o Dia Internacional da Mulher.

1. Indique as diferentes funções do emprego das aspas nos primeiro, quinto e penúltimo parágrafos do texto.

Resposta: Assinalar termo estrangeiro; demarcar trecho de texto da lei; evidenciar declaração do relator da matéria jurídica.

2. Assinale o referente do que está evidenciado neste trecho do nono parágrafo: “Não havia essa previsão, e vamos passar a tê-la”.

Resposta: Previsão.

3. Estão destacados, no próprio texto, elementos coesivos com os quais há a interconexão entre ideias. Assinale a alternativa que contempla a relação de sentido que eles estabelecem, de acordo com a ordem em que aparecem.

Resposta: Oposição; contraste; explicação; inclusão.

2. LITERATURA

1. Riobaldo, personagem-narrador de *Grande Sertão: Veredas*, romance de João Guimarães Rosa, afirma sobre suas crenças religiosas:

“Eu cá, não perco ocasião de religião. Aproveito de todas. Bebo água de todo rio... Uma só, para mim é pouca, talvez não me chegue. Rezo cristão, católico, embrenho a certo; e aceito as preces de compadre meu Quelemém, doutrina dele, de Cardéque. Mas, quando posso, vou no Mindubim, onde um Matias é crente, metodista: a gente se acusa de pecador, lê alto a Bíblia, e ora, cantando hinos belos deles” (ROSA, 1984, p. 15).

O sincretismo religioso é muito presente na obra de Rosa. Em *Sagarana* a religião assume duas formas principais. A primeira contém manifestações religiosas que são ligadas às tradições do mundo antigo e cristãs. A segunda enfoca as formas da fé na chave das religiões de raiz africana, indígena, religiões populares, mais próximas da proposta do sincretismo religioso.

Leia as alternativas abaixo e escolha aquela que marca corretamente em quais contos de *Sagarana* o aspecto do sincretismo religioso aparece com mais força:

Resposta: Corpo fechado; A hora e vez de Augusto Matraga; São Marcos.

2. *Sagarana*, João Guimarães Rosa, é composto por nove contos e vários aspectos e elementos se repetem, retornam e se complementam nas narrativas. Marque a alternativa que traz um aspecto comum aos contos Sarapalha e O burrinho pedrês:

Resposta: Os dois contos trazem histórias que acontecem durante um dia.

3. Os trechos a seguir são retirados da obra *O guardador de rebanhos*.

I

Eu nunca guardei rebanhos,

Mas é como se os guardasse.

Minha alma é como um pastor,

Conhece o vento e o sol

E anda pela mão das estações

A seguir e a olhar.

[...]

Não tenho ambições nem desejos.

Ser poeta não é uma ambição minha.

É a minha maneira de estar sozinho.

[...]

Quando me sento a escrever versos

Ou, passeando pelos caminhos ou pelos atalhos,

Escrevo versos num papel que está no meu pensamento,

Sinto um cajado nas mãos

E vejo um recorte de mim

No cimo dum outeiro,

Olhando para o meu rebanho e vendo as minhas ideias

Ou olhando para as minhas ideias e vendo o meu rebanho,

E sorrindo vagamente como quem não compreende o que se diz
E quer fingir que compreende.

IX

Sou um guardador de rebanhos
O rebanho é os meus pensamentos
E os meus pensamentos são todos sensações.
Penso com os olhos e com os ouvidos
E com a mão e os pés
E com o nariz e a boca.

(PESSOA, Fernando. Poemas completos de Alberto Caeiro / Fernando Pessoa; Rio de Janeiro: Nova Fronteira, 2011, pp. 41, 42, 54 e 55).

Esses versos trazem algumas das características principais presentes na obra em questão. Leia as afirmações abaixo e depois marque a alternativa correta.

- I. O sensacionismo como caminho para a realização da poesia.
- II. A analogia entre o pastor e o poeta, o poema e o rebanho.
- III. A contemplação como modo de vida e método poético.
- IV. A linguagem simples e objetiva apropriada para os temas corriqueiros do poema.

São características da obra em questão:

Resposta: I, II e III.

3. LÍNGUA INGLESA

The lockdown generation: 04 young people on spending a year at home

Richard Godwin

Sun 7 Mar 2021 08.00 GM

Adapted from <https://www.theguardian.com/society/2021/mar/07/the-lockdown-generation-16-young-people-on-spending-a-year-at-home>

Missing friends, learning new skills, playing online in lessons. On the eve of returning to school, we talk to children and teens and ask how they've fared during the pandemic.

Lucy, 14, Belfast

- 1- When I first heard about a virus it made me really shaky. It set my anxiety to a 9 or a 10. When they shut school, I thought it might be five or six weeks at the most. I didn't think it would span months.
- 2- School is definitely more difficult now I'm going into Year 11, and there's a lot to deal with when it comes to online lessons. That's affecting everyone. Being trapped inside a house doesn't help at all. It definitely puts a dampener on how you see things. But I'm getting used to it. I'd say I'm putting up with the situation barely well.

Lucia-Marie, 14, Pembrokeshire

- 3- I was barely ever home before. I'd go out with my friends and get back late. The age that I'm at, you just want to be with your friends. We'd hang out down the beach, or in the park or something. It's changed a lot. It's a bit like going back to being a child. I haven't seen anyone for ages. When we do go back – I'm just imagining in my head completely different people.
- 4- I know it sounds bad, but it's almost as if no one else is going through what you're going through – even though literally everyone is. Everyone is feeling the same but you kind of forget that sometimes. We do talk a lot though over social media – Instagram, Snapchat. It's brought us together in that way, but honestly, I just miss actually going out and seeing everyone. Not having to worry about social distancing.

Sammy, 6, Perthshire

- 5- We go on a lot of walks in lockdown. There's a place called the Witch's Path and we sometimes go there. I haven't seen any witches but I do see a cat. It's a cat that was the witch's cat but it betrayed the witch I think. It feels like it wants company. It's sneaky and it jumps out of different spots. The cat's name is Sam, like me.
- 6- I'm learning to read and write now. We do all our work on the computer which is really, really hard. We're doing super-sentences. A super-sentence is like a sentence with better words in it. Maybe four words.

Esmee, 9, Lancashire

- 7- I found it really hard at first. My mum's in a wheelchair so my grandma used to come round to our house to help a lot. But our grandma couldn't come because she was shielding. I was spending a lot of time with myself and I didn't get to see a lot of my family. My dad is a paramedic for East Lancashire Ambulance. I do worry about them but I know they're being as safe as they possibly can and I'm very proud of them. My mum had to buy new spoons because I was banging them so hard on the saucepan for the NHS.

- 8- In the first lockdown I went into school as a key-worker child. But now my mum and dad have to go into work – so my brother’s looking after me. He’s 16. Sometimes it feels like I’m the one looking after him.
- 9- It’s been really hard on my mum and dad because they’ve been trying to make me and my brother happy. It’s not just children who need the rest of their family for support and company. It’s also the adults. They need the rest of their family to stop them from going crazy because of how crazy we are.

1. According to paragraph 1, when Lucy says *I didn’t think it would span months* she means that

Resposta: she had no idea that the pandemic would last that long.

2. In paragraph 3, Lucia- Marie says that

Resposta: after having spent many months without meeting her friends, she will probably meet diferente people.

3. Leia o parágrafo 7 e escolha abaixo a alternativa correta.

Resposta: Esmae participou de pannelaço contra o sistema de saúde.

4. MATEMÁTICA

1. Determinado produto custava, em janeiro de 2020, R\$ 150,00. Esse produto teve seu preço aumentado em 20% no mês de fevereiro, e em março sofreu mais um aumento de 15% sobre preço do mês anterior. Em abril, esse produto entrou em promoção e seu preço foi reduzido em 25%. O preço desse produto em abril, em relação ao preço dele em janeiro, apresentou

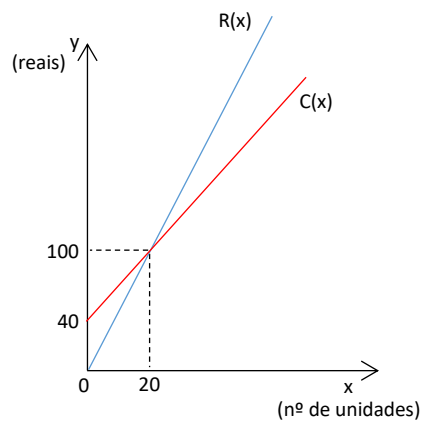
Resposta: um aumento de R\$ 5,25.

2. Uma emissora de televisão apresentou, no decorrer de um dia, a propaganda de dois produtos, A e B. A soma do tempo de todas as propagandas do produto A foi igual a 19 minutos e 20 segundos e do produto B a 11 minutos e 20 segundos. Sabendo que o número de segundos de cada propaganda, tanto do produto A, quanto do produto B foi igual e o maior possível, então, o número de propagandas exibidas do produto B foi

Resposta: 17.

3. O lucro em reais obtido por uma empresa com a venda de determinado produto é calculado pela função $L(x) = R(x) - C(x)$, onde $L(x)$ é o lucro, $R(x)$ é a receita (valor arrecadado com as vendas), $C(x)$ é o custo da produção e x é o número de unidades vendidas do produto.

O gráfico apresenta as funções custo $C(x)$ e receita $R(x)$, onde x é o número de unidades vendidas e y é o valor em reais.



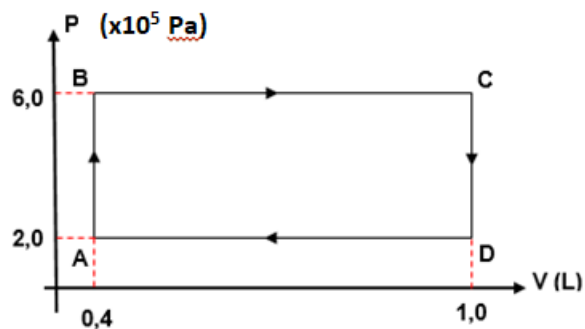
O menor número de unidades que precisam ser vendidas para que o lucro seja de R\$ 5.000,00 é

Resposta: 2520.

5. FÍSICA

1. Um sistema termodinâmico constituído por n mols de um gás ideal apresenta um ciclo como o representado na figura. Esse sistema realiza 20 ciclos idênticos a cada segundo, assim, podemos afirmar que o(s) ponto(s) de menor temperatura e a potência, em watts, desse sistema estão corretamente descritos, respectivamente, na alternativa:

Resposta: A e 4800.



2. A emissão fotoelétrica acontece quando os fótons (pacotes de energia), provenientes de uma fonte eletromagnética em repouso, e com frequência apropriada (frequência mínima f_{\min}), transferem parte de sua energia para os elétrons do alvo (geralmente metais), arrancando-os. A energia mínima que cada fóton deve ter para proporcionar o efeito fotoelétrico é chamada de função trabalho. A função trabalho é uma característica de cada material e depende do quão ligados estão os elétrons no material. A energia de um único fóton é determinada pela expressão: $E = h \cdot f$, em que h é a constante de Planck e f é a frequência do fóton incidente. Assinale a alternativa correta para o caso em que consideramos uma fonte eletromagnética de frequência f (f ligeiramente maior que f_{\min}), em movimento, dotada de grande velocidade em relação ao alvo fixo e sempre alinhada a ele:

Resposta: Caso a fonte se afaste do alvo, a frequência aparente poderia se tornar menor que f_{\min} e, assim, o efeito fotoelétrico não seria observado.

3. Uma lancha, partindo do repouso, acelera uniformemente a 3m/s^2 ao longo de uma trajetória retilínea. Num dado ponto desse deslocamento, o motor da lancha é desligado e ela passa a se deslocar por inércia e, ainda numa trajetória retilínea, sujeita a uma desaceleração uniforme de 9m/s^2 , devido à ação da água e do ar, até parar totalmente. Sabendo-se que a lancha deslocou-se ao todo 800m, determine o intervalo de tempo, em unidades do SI, decorrido ao longo

Resposta: 80/3.



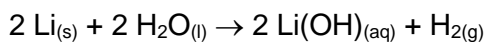
https://pt.pngtree.com/freepng/speedboat_1336211.html

6. QUÍMICA

1. Segundo a teoria das colisões, para que uma reação ocorra as moléculas devem colidir com uma orientação apropriada e ter energia suficiente para atingir um estado reativo, chamado estado de transição. A energia necessária para atingir o estado reativo é definida como:

Resposta: Energia de ativação.

2. Observe a reação, balanceada, entre um metal alcalino e a água:



Quantos gramas, aproximadamente, de H_2 serão produzidos a partir de 10,5 g de lítio?

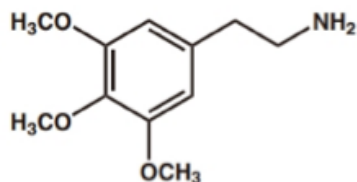
Considere:

Massa molar do Li = 6,94 g/mol

Massa molar do H = 1 g/mol

Resposta: 1,5 g.

3. A mescalina, devido sua propriedade alucinógena, é utilizada em cultos religiosos. Essa substância foi isolada em 1896 e inspirou a descoberta das anfetaminas. Observe a estrutura da mescalina e avalie as afirmativas feitas sobre esse composto.



I. Apresenta as funções orgânicas cetona e amina.

II. Apresenta carbono quiral em sua estrutura.

III. Sua fórmula molecular é $\text{C}_{11}\text{H}_{17}\text{NO}_3$.

Qual(is) afirmativa(s) está(ão) correta(s):

Resposta: III.

7. BIOLOGIA



Fonte: <<https://i.pinimg.com/originals/62/98/8e/62988e69f3431a9e009e1a152db36798.jpg>> (adaptado).

1. Na tirinha, Calvin reclama de um fenômeno acentuado pelo lançamento de poluentes no ar. Além da poluição atmosférica, outro fator que contribui diretamente para intensificar esse fenômeno é

Resposta: o desmatamento.

2. “No dia 21 de março é comemorado o Dia Internacional da Síndrome de Down, data criada em 2006 pela organização *Down Syndrome International* a fim de conscientizar a sociedade para a inclusão da pessoa com síndrome de Down e dar visibilidade ao tema. No Brasil, estima-se que há 300 mil pessoas vivendo com a síndrome de Down e, segundo os dados do recenseamento demográfico, a incidência da síndrome é de um a cada 700 nascimentos no país.”

Fonte: <<https://pebmed.com.br/dia-internacional-da-sindrome-de-down-como-e-a-abordagem-de-criancas-com-down/>> (adaptado).

21/03 é o Dia Internacional da Síndrome de Down. Assinale a alternativa que corresponde à característica genética dessa síndrome.

Resposta: Trissomia do cromossomo 21.

3. O Instituto Butantan tem se notabilizado em meio à pandemia de Covid-19 por trabalhar no desenvolvimento tanto de vacina, como de soro contra a doença. Nesse contexto, é correto afirmar que

Resposta: a vacina se aplica apenas à prevenção, e o soro apenas ao tratamento.

8. HISTÓRIA

1. Leia o texto abaixo com atenção.

É Benjamin Franklin que nessas sentenças nos faz um sermão – máximas que Ferdinand Kürnberger satiriza como [pretensa] profissão de fé ianque em seu Retrato da cultura americana, que cintila de verve e veneno. (...)

Se nos demoramos ainda nessa passagem, cuja filosofia de vida é assim resumida no Cansado da América de Kürnberger: “Do gado se faz sebo; das pessoas, dinheiro”, então salta à vista como traço próprio dessa “filosofia da avareza” [o ideal do homem honrado digno de crédito e, sobretudo] a ideia do dever que tem o indivíduo de se interessar pelo aumento de suas posses como um fim em si mesmo [com efeito: aqui não se emprega simplesmente uma técnica de vida, mas uma “ética” peculiar cuja violação não é tratada apenas como desatino, mas como uma espécie de falta com o dever: isso, antes de tudo, é a essência da coisa. O que se ensina aqui não é apenas “perspicácia nos negócios” – algo que de resto se encontra com bastante frequência -, mas é um ethos que se expressa, e é precisamente nesta qualidade que ele nos interessa.]

WEBER, Max – A ética protestante e o “espírito” do capitalismo – São Paulo: Companhia das Letras, 2004, pp. 44-45.

A partir do texto e de seus conhecimentos, podemos dizer que:

Resposta: Weber sustentava que o protestantismo se diferencia do catolicismo, dentre outras coisas, porque se baseia na lógica e no ideário do capitalismo, diferentemente do que defendia a Igreja Católica, contrária ao lucro e à usura.

2. *Da plantação colonial, subordinada às necessidades estrangeiras e financiada, em muitos casos, do exterior, provém em linha reta o latifúndio de nossos dias. Este é um dos gargalos da garrafa que estrangulam o desenvolvimento econômico da América Latina e um dos fatores primordiais da marginalização e da pobreza das massas latino-americanas.*

GALEANO, Eduardo – As Veias Abertas da América Latina, 8ª ed., Rio de Janeiro: Paz e Terra, 1979, p. 72.

Segundo o texto, podemos dizer que, para Eduardo Galeano:

Resposta: A lógica da economia latino-americana é traçada pela herança colonial, já que a concentração fundiária, a exploração do campesinato e a dependência do capital externo se mantêm até nossos dias.

3. Leia o texto abaixo com atenção.

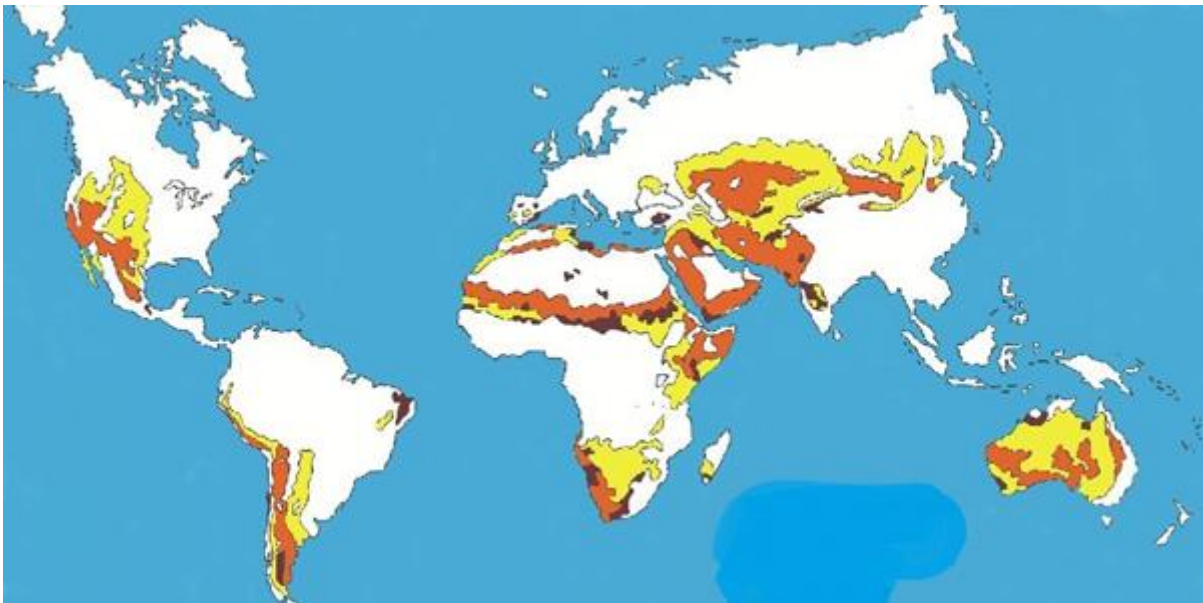
Florestan estuda essa classe invisibilizada de abandonados no local mais competitivo e onde ela teve, inicialmente pelo menos, menores chances: a São Paulo dos imigrantes e do crescimento vertiginoso. O dado essencial de todo esse processo foi o abandono do liberto a sua própria sorte (ou melhor, ao próprio azar). Como todo processo de escravidão pressupõe a animalização e humilhação do escravo e a destruição progressiva de sua humanidade, como o direito ao reconhecimento e à autoestima, a possibilidade de ter família, interesses próprios e planejar sua própria vida, libertá-lo sem ajuda equivale a uma condenação eterna. E foi exatamente isso que aconteceu entre nós. Como nossa própria pesquisa empírica de 2009 comprova, a situação da “ralé de novos escravos” pouco mudou desde então.

SOUZA, Jessé – A elite do atraso: da escravidão à Lava Jato – Rio de Janeiro: Leya, 2017, pp. 74-75.

Após leitura atenta do texto podemos afirmar que:

Resposta: O que o autor chama de “ralé de novos escravos” é uma camada da sociedade brasileira, marcada pela história da escravidão, que herdou a falta de oportunidades, a marginalização e o preconceito.

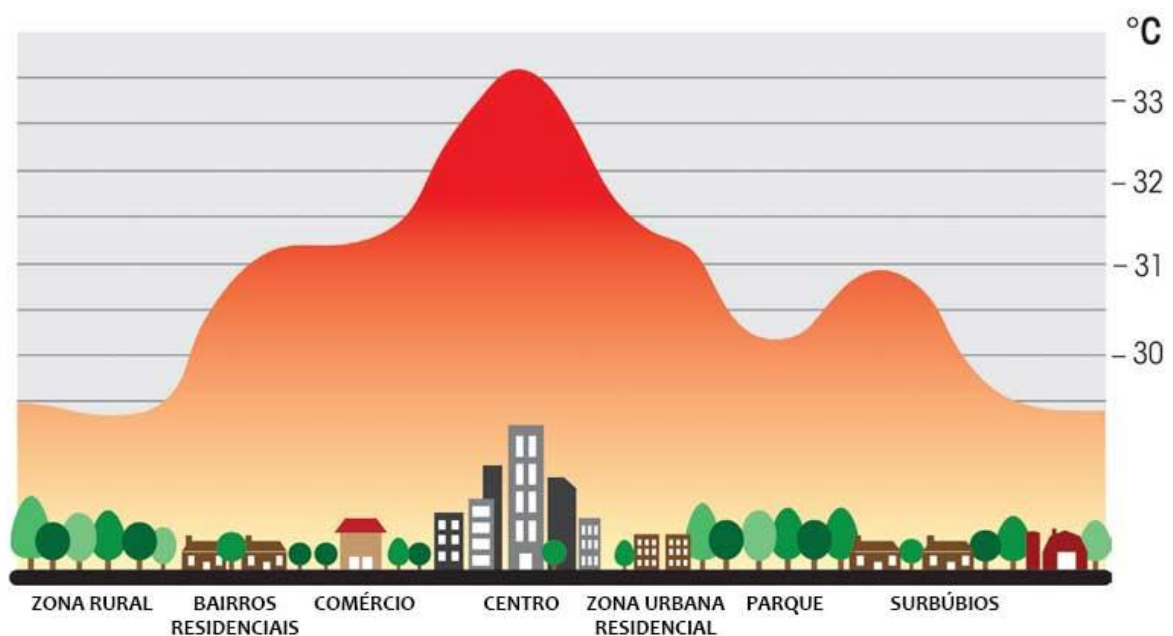
9. GEOGRAFIA



<https://dialogospoliticos.wordpress.com/>

1. Após interpretar e analisar o mapa acima, assinale a alternativa que melhor explica o fenômeno representado por níveis de intensidade.

Resposta: O fenômeno representado no mapa indica regiões em risco de desertificação. Nas áreas mais escuras o risco de desertificação é mais iminente, conforme a saturação de cores diminui para laranja e amarelo, o risco de desertificação diminui.



<https://ca-2.com/>

2. Assinale a alternativa que identifica e explica corretamente o fenômeno representado acima.

Resposta: A imagem ilustra a situação que pode ser encontrada em espaços urbanos, conhecida por Ilhas de Calor. As áreas centrais, sobretudo das grandes cidades, tendem a apresentar uma temperatura mais elevada que seu entorno, fatores como perda da cobertura vegetal, elevada verticalização e poluição atmosférica contribuem para a formação do fenômeno.

Taxa de mortalidade infantil (por mil), taxa de mortalidade no grupo de 1 a 4 anos de idade (por mil) e taxa de mortalidade na infância (por mil) - Brasil - 1940/2016					
Ano	Taxa de mortalidade infantil (por mil)	Taxa de mortalidade no grupo de 1 a 4 anos de idade (por mil)	Taxa de mortalidade na infância (por mil)	Das crianças que vieram a falecer antes dos 5 anos a chance de falecer (%)	
				Antes de 1 ano	Entre 1 a 4 anos
1940	146,6	76,7	212,1	69,1	30,9
1950	136,2	65,4	192,7	70,7	29,3
1960	117,7	47,6	159,6	73,7	26,3
1970	97,6	31,7	126,2	77,3	22,7
1980	69,1	16,0	84,0	82,3	17,7
1991	45,1	13,1	57,6	78,3	21,7
2000	29,0	6,7	35,5	81,7	18,3
2010	17,2	2,64	19,8	86,9	13,1
2016	13,3	2,24	15,5	85,8	14,2
$\Delta\%$ (1940/2016)	-90,9	-97,1	-92,7		
Δ (1940/2016)	-133,3	-74,4	-196,6		

Fontes: 1940, 1950, 1960 e 1970 - Tábuas construídas no âmbito da Gerência de Estudos e Análises da Dinâmica Demográfica.

1980 e 1991 - ALBUQUERQUE, Fernando Roberto P. de C. e SENNA, Janaína R. Xavier "Tábuas de Mortalidade por Sexo e Grupos de Idade - Grandes e Unidades da Federação – 1980, 1991 e 2000. Textos para discussão, Diretoria de Pesquisas, IBGE, Rio de Janeiro, 2005.161p. ISSN 1518-675X ; n. 20.

2000 em diante - IBGE/Diretoria de Pesquisas. Coordenação de População e Indicadores Sociais. Gerência de Estudos e Análises da Dinâmica Demográfica. Projeção da população do Brasil por sexo e idade para o período 2000-2060.

<https://agenciadenoticias.ibge.gov.br/agencia-sala-de-imprensa/2013-agencia-de-noticias/releases/>

3. Assinale a alternativa que oferece a interpretação e justificativas corretas a respeito da tabela acima.

Resposta: A significativa mudança da mortalidade infantil no período apresentado deve-se, entre outros fatores, pela melhora e maior amplitude de atuação da medicina preventiva (vacinas) e curativa (atendimento médico e hospitalar).

10. ATUALIDADES



1. A charge acima é obra da cartunista Laerte e estava na capa do jornal Folha de S. Paulo do dia 9 de março de 2021. Assinale a alternativa que apresenta a melhor interpretação relacionada à intencionalidade da autora.

Resposta: A politização da compra, distribuição, uso e até eficácia das vacinas contribuíram para o atraso da imunização e desentendimento entre as esferas de poder, fragmentando as iniciativas de combate à pandemia.

2. Azerbaijão e Armênia assinam acordo para encerrar conflito na fronteira
Acordo teve mediação da Rússia, que vai enviar quase 2 mil soldados à região de Nagorno-Karabakh. População comemorou no Azerbaijão e protestou na Armênia.
Por France Presse

10/11/2020 09h27

<https://g1.globo.com/mundo/noticia/2020/11/10/>

A notícia acima se refere a um conflito que se fortaleceu no início dos anos 1990.

Sobre o conflito e a notícia, assinale a alternativa correta.

Resposta: O conflito entre os dois países da ex-União Soviética se apresenta como uma nova etapa de um embate que se iniciou com o esfacelamento soviético. A comemoração da população azeri se justifica pelo acordo assinado pelos países em 2020, em que a Armênia se prontifica a desocupar vários distritos na região em questão.

3. Volta de Lula ameaça união do centrão em torno de Bolsonaro para 2022

<https://www1.folha.uol.com.br/poder/2021/03/>

Bolsonaro discute com Centrão substituição de Pazuello no Ministério da Saúde

<https://ultimosegundo.ig.com.br/politica/2021-03-14/>

Rearranjo no Planalto leva centrão para núcleo duro do governo Bolsonaro

<https://amazonasatual.com.br/>

As três manchetes acima, retiradas de notícias veiculadas pela mídia virtual, apresentam a palavra centrão em comum, termo bastante popular nas análises políticas e nos corredores do Congresso Nacional em Brasília.

Assinale a única alternativa que explica corretamente a intencionalidade da palavra centrão para o contexto político brasileiro.

Resposta: Refere-se ao grupo formado por parlamentares de várias legendas partidárias, com viés ideológico nem sempre bem definido, que negociam apoio ao poder executivo em troca de cargos no governo, como a chefia de ministérios, fazem parte da chamada “velha política”.